

6. КИМ по учебному предмету «Окружающий мир»

1 класс

КОДИФИКАТОР распределённых по классам проверяемых элементов содержания по учебному предмету «Окружающий мир» 1 класс

Код раздела	Код проверяемого элемента (КПЭ)	Проверяемые элементы содержания
1	Человек и общество	
	1.1	Называть себя и членов своей семьи по фамилии, имени, отчеству, профессии членов своей семьи, домашний адрес и адрес своей школы; проявлять уважение к семейным ценностям и традициям, соблюдать правила нравственного поведения в социуме и на природе
	1.2	Воспроизводить название своего населённого пункта, региона, страны
	1.3	Приводить примеры культурных объектов родного края, школьных традиций и праздников, традиций и ценностей своей семьи, профессий
2	Человек и природа	
	2.1	Описывать на основе опорных слов наиболее распространённые в родном крае дикорастущие и культурные растения, диких и домашних животных; сезонные явления в разные времена года; деревья, кустарники, травы; основные группы животных (насекомые, рыбы, птицы, звери); выделять их наиболее существенные признаки
	2.2	Применять правила ухода за комнатными растениями и домашними животными
	2.3	Проводить, соблюдая правила безопасного труда, несложные групповые и индивидуальные наблюдения (в том числе за сезонными изменениями в природе своей местности), измерения (в том числе вести счёт времени, измерять температуру воздуха) и опыты под руководством учителя
	2.4	Использовать для ответов на вопросы небольшие тексты о природе и обществе
3	Правила безопасной жизни	
	3.1	Оценивать ситуации, раскрывающие положительное и негативное отношение к природе; правила поведения в быту, в общественных местах
	3.2	Соблюдать правила безопасности на учебном месте

		школьника; во время наблюдений и опытов; безопасно пользоваться бытовыми электроприборами
	3.3	Соблюдать правила здорового питания и личной гигиены
	3.4	Соблюдать правила безопасного поведения пешехода
	3.5	Соблюдать правила безопасного поведения в природе
	3.6	С помощью взрослых (учителя, родителей) пользоваться электронным дневником и электронными ресурсами школ

Промежуточная аттестация. Итоговая тестовая работа.

Цель: Проверить овладение предметными результатами

- воспроизводить название своего населённого пункта, региона, страны;
- различать объекты живой и неживой природы, объекты, созданные человеком, и природные материалы, части растений (корень, стебель, лист, цветок, плод, семя), группы животных (насекомые, рыбы, птицы, звери);
- описывать на основе опорных слов наиболее распространённые в родном крае дикорастущие и культурные растения, диких и домашних животных; сезонные явления в разные времена года; деревья, кустарники, травы; основные группы животных (насекомые, рыбы, птицы, звери); выделять их наиболее существенные признаки;
- проводить, соблюдая правила безопасного труда, несложные групповые и индивидуальные наблюдения (в том числе за сезонными изменениями в природе своей местности), измерения (в том числе вести счёт времени, измерять температуру воздуха) и опыты под руководством учителя;
- соблюдать правила безопасного поведения пешехода;
- соблюдать правила безопасного поведения в природе;

Спецификация

№ задания	1	2	3	4	5	6	7	8	9	10	11	12	13	14
Код проверяемого элемента	2.1	2.1 2.2	1.2	1.2	2.3	2.1	-	3.4	3.3	3.1 3.5	2.1 2.4	-	2.1 2.4	2.1 2.3

Тест

Часть А.

Первая часть А1-А10 содержит 10 заданий. К ним даются варианты ответов, и вам предстоит выбрать из них один правильный. Номер правильного ответа обведите кружком.

1. Что относится к неживой природе?
 - а) тюльпан
 - б) олень
 - в) гранит
2. Какая часть растения впитывает воду из почвы?
 - 1) корень
 - 2) стебель
 - 3) лист
3. Как называется наша страна?
 - а) Омск
 - б) Москва
 - в) Россия
4. Как называется столица нашей Родины?
 - а) Нижний Новгород
 - б) Москва
 - в) Россия
5. В каком водоёме вода пресная?
 - а) в море
 - б) в океане
 - в) в реке

6. Что отличает зверей от птиц?
 а) наличие ушей б) наличие глаз в) наличие шерсти
7. К какому виду транспорта относится вертолёт?
 а) наземный б) воздушный в) водный
8. Со сколько лет можно ездить на велосипеде по проезжей части?
 а) 14 б) 7 в) 18
9. Что надо делать перед сном?
 а) поесть б) проветрить комнату в) посмотреть ужастик
10. Что можно делать на природе?
 а) мусорить б) фотографировать в) собирать букеты цветов

11. Составь верное высказывание, соединив начало и конец:

- | | |
|---------------------------------|----------------------------------|
| 1. Насекомые – это животные | а) тело которых покрыто чешуёй. |
| 2. Птицы – это животные | б) у которых 8 ног. |
| 3. Рыбы – это животные | в) тело которых покрыто перьями. |
| 4. Пауки – это животные | г) у которых 6 ног. |

12. Допиши пропущенные дни недели:

Понедельник, _____, Среда, _____, _____, Суббота, _____.

13. Прочти определение и запиши, о какой группе растений идёт речь? Запиши пример такого растения.

Это многолетнее растение, ствол которого нельзя сломать руками, потому что он покрыт древесиной. Ветви образуют крону.

Ответ: _____.

14. Дорисуй и подпиши части растения



2 класс

КОДИФИКАТОР

распределённых по классам проверяемых элементов содержания по учебному предмету «Окружающий мир»

2 класс

Код раздела	Код проверяемого элемента (КПЭ)	Проверяемые элементы содержания
1	Человек и общество	
	1.1	Находить Россию на карте мира, на карте России - Москву, свой регион и его главный город

	1.2	Узнавать государственную символику Российской Федерации (гимн, герб, флаг) и своего региона
	1.3	Проявлять уважение к семейным ценностям и традициям, традициям своего народа и других народов, государственным символам России; соблюдать правила нравственного поведения в социуме и на природе
	1.4	Распознавать изученные объекты окружающего мира по их описанию, рисункам и фотографиям, различать их в окружающем мире
	1.5	Приводить примеры изученных традиций, обычаев и праздников народов родного края; важных событий прошлого и настоящего родного края; трудовой деятельности и профессий жителей родного края
2	Человек и природа	
	2.1	Проводить, соблюдая правила безопасного труда, несложные наблюдения и опыты с природными объектами, измерения
	2.2	Приводить примеры изученных взаимосвязей в природе, примеры, иллюстрирующие значение природы в жизни человека
	2.3	Описывать на основе предложенного плана или опорных слов изученные культурные объекты (достопримечательности родного края, музейные экспонаты)
	2.4	Описывать на основе предложенного плана или опорных слов изученные природные объекты и явления, в том числе звёзды, созвездия, планеты
	2.5	Группировать изученные объекты живой и неживой природы по предложенным признакам
	2.6	Сравнивать объекты живой и неживой природы на основе внешних признаков;
	2.7	Ориентироваться на местности по местным природным признакам, Солнцу, компасу;
	2.8	Создавать по заданному плану развёрнутые высказывания о природе и обществе;
	2.9	Использовать для ответов на вопросы небольшие тексты о природе и обществе;
	2.10	Соблюдать правила нравственного поведения в социуме и в природе, оценивать примеры положительного и негативного отношения к объектам природы, проявления внимания, помощи людям, нуждающимся в ней;
3	Правила безопасной жизни	
	3.1	Соблюдать правила безопасного поведения в школе, правила безопасного поведения пассажира наземного транспорта и метро
	3.2	Соблюдать режим дня и питания
	3.3	Безопасно использовать мессенджеры Интернета в условиях контролируемого доступа в Интернет
	3.4	Безопасно осуществлять коммуникацию в школьных

		сообществах с помощью учителя в случае необходимости.
--	--	---

1. Тест по теме «Человек и общество»

Цель: проверить овладение предметными результатами

- узнавать государственную символику Российской Федерации (гимн, герб, флаг) и своего региона;
- проявлять уважение к семейным ценностям и традициям, традициям своего народа и других народов, государственным символам России; соблюдать правила нравственного поведения в социуме и на природе;
- приводить примеры изученных традиций, обычаев и праздников народов родного края; важных событий прошлого и настоящего родного края; трудовой деятельности и профессий жителей родного края.

Спецификация

№ задания	1	2	3	4	5
Код проверяемого элемента	1.1	1.2	1.4 1.5	1.4 1.5	1.2

Тест

1. Выбери полное имя нашей страны?

- А) Россия;
- Б) Российская Федерация;
- В) Союз Советских Социалистических Республик.

2. Допиши предложение:

Государственные символы Российской Федерации -

2. Установи соответствие:

Город	многоэтажные дома деревянные частные дома просёлочные дороги асфальтированные дороги
Село	заводы, фабрики люди, занимаются выращиванием культурных растений троллейбусы, трамваи лошади, коровы, овцы

3. Что относится к продукции сельского хозяйства? Вычеркни лишнее.

Пшеница, кукуруза, мёд, троллейбус, сметана, грузовик.

4. Что относится к продукции промышленности? Вычеркни лишнее.

Велосипед, платье, сотовый телефон, капуста, компьютер, альбом

5. Определи цвета флага Российской Федерации?

- А) Белый, синий, красный.
- Б) Белый, зелёный, красный.
- В) Белый, синий, розовый.

2. Тест по теме «Человек и природа»

Цель: проверить овладение предметными результатами

- приводить примеры изученных взаимосвязей в природе, примеры, иллюстрирующие значение природы в жизни человека;

- описывать на основе предложенного плана или опорных слов изученные природные объекты и явления, в том числе звёзды, созвездия, планеты;
- группировать изученные объекты живой и неживой природы по предложенным признакам.

Спецификация

№ задания	1	2	3	4	5	6
Код проверяемого элемента	2.4	2.4 2.9	2.4	2.5 2.6	2.1 2.9	2.4

Тест

1. Найди группу, в которой перечислены только деревья
 - а) дуб, орешник, клён, сосна
 - б) осина, берёза, ясень, ель
 - в) сирень, лиственница, рябина, липа
2. Все изменения, происходящие в природе, называются:
 - а) Природные явления
 - б) Сезонные явления
 - в) Погода
3. Как называется явление природы, при котором все водоёмы покрываются льдом?
 - а) Обледенение б) Изморозь в) Ледоход г) Ледостав.
4. Выбери предметы рукотворного мира?
 - а) Птица, насекомое, гриб, солнце, луна, камень
 - б) Сорока, лисица, ромашка, подберёзовик, волк
 - в) Полотенце, кружка, платье, шахматы, пенал
5. Что такое погода?
 - а) Сочетание температуры воздуха, облачности, осадков, ветра
 - б) Сочетание осадков, ветра
 - в) Сочетание температуры воздуха, облачности, осадков
6. Что является источником света и тепла для всего живого на Земле?
 - а) Луна;
 - б) Солнце;
 - в) Звёзды.

3. Тест по теме «Правила безопасной жизни»

Цель: проверить овладение предметными результатами

- соблюдать правила нравственного поведения в социуме и в природе, оценивать примеры положительного и негативного отношения к объектам природы, проявления внимания, помощи людям, нуждающимся в ней;
- соблюдать правила безопасного поведения в школе, правила безопасного поведения пассажира наземного транспорта и метро;
- соблюдать режим дня и питания.

Спецификация

№ задания	1	2	3	4	5	6	7	8
Код проверяемого элемента	3.2	3.2	3.1					3.4

Тест

1. Для чего нужно соблюдать режим дня?
 - а) чтобы сохранить своё здоровье

- б) чтобы никуда не опаздывать
 - в) чтобы мама не ругала
2. Какие предметы у человека должны быть личными?
- а) полотенце
 - б) мыло
 - в) шампунь
 - г) зубная щетка
 - д) мочалка
 - е) расчёска
 - ж) тарелка
3. Где нужно обходить автобус или троллейбус?
- а) сзади
 - б) спереди
 - в) подождать, когда транспорт отъедет
4. Отметьте домашние опасности :
- а) неисправные электроприборы
 - б) порванное платье
 - в) неизвестные лекарства
 - г) мясорубка
 - д) неустойчивая мебель
 - е) порванная книга
5. Почему нельзя играть со спичками?
- а) они могут сломаться
 - б) родители будут ругать
 - в) может случиться пожар
6. Как вести себя на водоемах:
- а) не плавать в незнакомых местах
 - б) не купаться одному
 - в) вовсе не купаться
 - г) не заплывать за буйки
 - д) купаться в чистых водоёмах
 - е) намочить ноги и выйти из воды
 - ж) купаться можно где угодно, если хорошо плаваешь
7. Отметить ядовитые растения:
- а) мухомор
 - б) волчье лыко
 - в) смородина
8. Отметь правила поведения с незнакомцами:
- а) не открывать незнакомцам двери
 - б) не садиться в лифт
 - в) всё рассказать о себе
 - г) ничего не говорить о себе и своих родных
 - д) громко кричать и звать на помощь, если вас пытаются тащить за руку
 - е) пригласить в дом и угостить чаем

4. Промежуточная аттестация. Итоговая тестовая работа.

Цель: проверить овладение предметными результатами

— находить Россию на карте мира, на карте России — Москву, свой регион и его главный город;

— узнавать государственную символику Российской Федерации (гимн, герб, флаг) и своего региона; — находить Россию на карте мира, на карте России — Москву, свой регион и его главный город;

- узнавать государственную символику
- приводить примеры изученных взаимосвязей в природе, примеры, иллюстрирующие значение природы в жизни человека;
- описывать на основе предложенного плана или опорных слов изученные природные объекты и явления, в том числе звёзды, созвездия, планеты;
- группировать изученные объекты живой и неживой природы по предложенным признакам;
- сравнивать объекты живой и неживой природы на основе внешних признаков;
- соблюдать правила безопасного поведения в школе, правила безопасного поведения пассажира наземного транспорта и метро;
- соблюдать режим дня и питания;
- приводить примеры изученных взаимосвязей в природе, примеры, иллюстрирующие значение природы в жизни человека;
- описывать на основе предложенного плана или опорных слов изученные природные объекты и явления, в том числе звёзды, созвездия, планеты;
- группировать изученные объекты живой и неживой природы по предложенным признакам;
- сравнивать объекты живой и неживой природы на основе внешних признаков;
- соблюдать правила безопасного поведения в школе, правила безопасного поведения пассажира наземного транспорта и метро;
- соблюдать режим дня и питания.

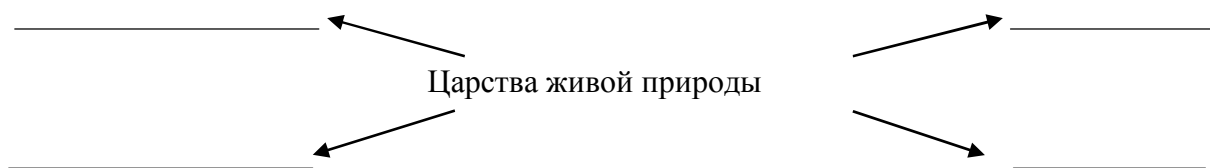
Спецификация

№ задания	1	2	3	4	5	6	7	8	9	10	11	12
Код проверяемого элемента	2.5 2.6	2.5. 2.6	1.1	1.2	1.2	2.4	2.4	2.5 2.6	2.5	2.10	2.8	2.2 2.8

Тест

1. К живой природе относятся:
 - А) растения, камни, реки, человек
 - Б) растения, грибы, животные, человек
 - В) солнце, звезды, воздух, вода, камни.
2. К неживой природе относятся:
 - А) солнце, Луна, звезды, растения.
 - Б) растения, животные, человек
 - В) дождь, камни, песок, облака.
3. Отметь название нашей страны:
 - А) Нижний Новгород
 - Б) Москва
 - В) Россия
4. Отметь, что такое Конституция.
 - А) Главный закон государства
 - Б) Главный закон Земли
 - В) Правила поведения в школе
5. Нарисуй флаг России
6. Отметь правильный ответ:
 - А) Земля - пятая из восьми планет.
 - Б) Земля - третья из восьми планет.
 - В) Земля - четвёртая из восьми планет.
7. Отметь верный ответ
Луна – это ...

- А) планета Солнечной системы.
 Б) естественный спутник Земли.
 В) искусственный спутник Земли.
 8. Заполни схему



9. Подчеркни «лишнее» слово.
 Заяц, ёж, лиса, шмель.
 Бабочка, стрекоза, окунь, пчела.
 Кузнечик, божья коровка, воробей, майский жук.
 Кузнечик, божья коровка, волк, комар.
 10. Отметьте съедобные грибы:
 А) сыроежка, мухомор, опята
 Б) ложные опята, белый гриб, подберёзовик
 В) подосиновик, опята, рыжик
 11. Какие ярусы леса ты знаешь?
 А) кустарники, мхи, травы
 Б) деревья, кустарники, травы
 В) грибы, ягоды, мхи.
 12. * Заполни таблицу

Обитатели озёр и рек	Обитатели морей	Млекопитающие

Дельфин, сом, акула, щука, карась, камбала, кит.

3 класс

КОДИФИКАТОР
распределённых по классам проверяемых элементов содержания по учебному
предмету «Окружающий мир»
3 класс

Код раздела	Код проверяемого элемента (КПЭ)	Проверяемые элементы содержания
1	Человек и общество	
	1.1	Различать государственную символику Российской Федерации (гимн, герб, флаг); проявлять уважение к государственным символам России и своего региона
	1.2	Проявлять уважение к семейным ценностям и традициям, традициям своего народа и других народов; соблюдать правила нравственного поведения в социуме
	1.3	Приводить примеры памятников природы, культурных объектов и достопримечательностей родного края; столицы России, городов РФ с богатой историей и

		культурой; российских центров декоративно-прикладного искусства; проявлять интерес и уважение к истории и культуре народов России
	1.4	Показывать на карте мира материка, изученные страны мира;
	1.5	Различать расходы и доходы семейного бюджета;
2	Человек и природа	
	2.1	Распознавать изученные объекты природы по их описанию, рисункам и фотографиям, различать их в окружающем мире
	2.2	Проводить по предложенному плану или инструкции небольшие опыты с природными объектами с использованием простейшего лабораторного оборудования и измерительных приборов; соблюдать безопасность проведения опытов
	2.3	Группировать изученные объекты живой и неживой природы, проводить простейшую классификацию
	2.4	Сравнивать по заданному количеству признаков объекты живой и неживой природы
	2.5	Описывать на основе предложенного плана изученные объекты и явления природы, выделяя их существенные признаки и характерные свойства
	2.6	Использовать различные источники информации о природе и обществе для поиска и извлечения информации, ответов на вопросы
	2.7	Использовать знания о взаимосвязях в природе, связи человека и природы для объяснения простейших явлений и процессов в природе, организме человека
	2.8	Фиксировать результаты наблюдений, опытной работы, в процессе коллективной деятельности обобщать полученные результаты и делать выводы
	2.9	Создавать по заданному плану собственные развёрнутые высказывания о природе, человеке и обществе, сопровождая выступление иллюстрациями (презентацией)
3	Правила безопасной жизни	
	3.1	Соблюдать правила безопасного поведения пассажира железнодорожного, водного и авиатранспорта
	3.2	Соблюдать периодичность двигательной активности и профилактики заболеваний
	3.3	Соблюдать правила безопасного поведения во дворе жилого дома
	3.4	Соблюдать правила нравственного поведения на природе
	3.5	Безопасно использовать персональные данные в условиях контролируемого доступа в Интернет; ориентироваться в возможных мошеннических действиях при общении в мессенджерах

1. Тест по теме «Эта удивительная природа»

Цель: проверить овладение предметными результатами

- группировать изученные объекты живой и неживой природы, проводить простейшую классификацию;
- сравнивать по заданному количеству признаков объекты живой и неживой природы;
- использовать знания о взаимосвязях в природе, связи человека и природы для объяснения простейших явлений и процессов в природе, организме человека;
- описывать на основе предложенного плана изученные объекты и явления природы, выделяя их существенные признаки и характерные свойства;
- использовать знания о взаимосвязях в природе, связи человека и природы для объяснения простейших явлений и процессов в природе, организме человека.

Спецификация

№ задания	1	2	3 - 5	6, 9	7	8	10, 11, 13	12	14	15	16, 17
Код проверяемого элемента	2.5	2.5	2.7	2.3 2.4	2.5	2.7	2.3	2.1 2.3	3.4	2.7	3.4

Тест

1. Какой газ, входящий в состав воздуха, необходим для дыхания?
 - азот;
 - кислород;
 - углекислый газ.
2. Какими свойствами обладает воздух?
 - голубого цвета, проводит звуки, пропускает солнечные лучи, не имеет запаха;
 - прозрачен, бесцветен, без запаха, при нагревании расширяется, а при охлаждении сжимается, плохо проводит тепло;
 - с ветром по воздуху проносятся пыль, запах зависит от окружающих предметов, при резком изменении границы тепла и холода образуются ветры.
3. Как нужно охранять воздух от загрязнения?
 - остановить все фабрики и заводы, прекратить заготовку древесины, запретить пользоваться транспортом, превратить Землю в один огромный заповедник;
 - фабрики и заводы должны иметь уловители пыли и вредных веществ, транспорт необходимо сделать экологически безопасным, в городах и вокруг них создавать пояса садов, парков и лесов.
4. За счёт чего в скалах и в камнях образуются трещины?
 - за счёт нагревания скал и камней в тёплые солнечные дни;
 - за счёт остывания скал и камней по ночам;
 - за счёт неравномерного расширения и сжатия скал, камней.
5. Какие представители живой природы ускоряют разрушение скал?
 - животные;
 - растения;
 - грибы и микробы.
6. К какой природе можно отнести почву?
 - к живой;
 - к неживой;
 - неживая и живая природа в почве соединяются.
7. Что растения получают из почвы?
 - перегной, песок, глину;
 - воздух, воду, соли;
 - остатки растений и животных.

8. Что влияет на плодородие почвы?

- наличие в почве перегноя;
- наличие в почве воды;
- наличие в почве песка и глины.

9. Подчеркните названия хвойных растений одной чертой, цветковых – двумя чертами: Яблоня, ель, смородина, сосна, одуванчик, можжевельник.

10. Какое из указанных животных относится к рыбам?

- дельфин;
- бегемот;
- карп.

11. Какие из указанных животных относятся к растительноядным?

- коровы, бегемоты, жирафы;
- волки, лисы, кабаны;
- лоси, тюлени, киты.

12. Какая из цепей питания указана правильно?

- сосна → дятел → жук-короед;
- слизень → капуста → жаба;
- рожь → мышь → змея → орёл.

13. Кто рождает живых детёнышей и выкармливает их молоком?

- звери;
- птицы;
- рыбы.

14. В какое время года охота и рыбная ловля бывают запрещены?

- весной;
- осенью;
- зимой.

15. Какие растения применяются в медицине?

- красивые;
- лекарственные;
- высокие.

16. Редкие растения запрещено собирать. Под особой защитой они находятся:

- в заповедниках;
- на приусадебном участке;
- на бульварах и в скверах.

17. Какие животные занесены в Красную книгу?

- тигр, морж, фламинго, орёл-беркут;
- корова, лошадь, гусь, петух;
- свинья, овца, утка, индюк.

2. Тест по теме «Превращения и круговорот воды»

Цель: проверить овладение предметными результатами

— описывать на основе предложенного плана изученные объекты и явления природы, выделяя их существенные признаки и характерные свойства;

— использовать различные источники информации о природе и обществе для поиска и извлечения информации, ответов на вопросы;

— использовать знания о взаимосвязях в природе, связи человека и природы для объяснения простейших явлений и процессов в природе, организме человека;

— фиксировать результаты наблюдений, опытной работы, в процессе коллективной деятельности обобщать полученные результаты и делать выводы;

— фиксировать результаты наблюдений, опытной работы, в процессе коллективной деятельности обобщать полученные результаты и делать выводы;

Спецификация

№ задания	1	2	3
Код проверяемого элемента	2.5	2.5 2.6 2.7	2.3 2.4 2.5

Тест

1. Прочитайте предложения. Вместо точек впишите пропущенные слова:

Вода при нагревании и при охлаждении. В воде растворяются некоторые вещества, потому что вода – хороший Воду можно очистить с помощью

2. Вода – растворитель. Как проявляется это свойство в природе? Приведите примеры. Ответ напишите.

.....

3. Какие свойства имеют воздух и вода? Выберите эти свойства и запишите ответы соответствующими цифрами:

1. Не имеет цвета.
2. Не имеет запаха.
3. Расширяется при нагревании.
4. Сжимается при охлаждении.
5. Растворитель.
6. Плохо проводит тепло.
7. Прозрачность.
8. Текучесть.

3. Тест по теме «Как устроен мир»

Цель: проверить овладение предметными результатами

- описывать на основе предложенного плана изученные объекты и явления природы, выделяя их существенные признаки и характерные свойства;
- использовать различные источники информации о природе и обществе для поиска и извлечения информации, ответов на вопросы;
- использовать знания о взаимосвязях в природе, связи человека и природы для объяснения простейших явлений и процессов в природе, организме человека;
- соблюдать правила нравственного поведения на природе;
- сравнивать по заданному количеству признаков объекты живой и неживой природы;
- различать государственную символику Российской Федерации (гимн, герб, флаг); проявлять уважение к государственным символам России и своего региона;

Спецификация

№ задания	1	2	3	4	5	6	7	8	9	10	11
Код проверяемого элемента	2.3	2.3	2.3	2.3	2.7	2.7	2.7	2.7	2.1 2.5	2.7	2.1 2.5

Тест

1. Подчеркни названия природных объектов:

Ромашка, линейка, плитка, машина, горы, шкаф, глина, птица, облака, тетрадь, дерево, дом.

2. К неживой природе относятся:

- человек, животные, растения, грибы, микробы;
- Солнце, Земля, воздух, вода, человек и всё то, что сделано его руками;
- Солнце, небо, облака, Земля, камни, вода, дождь, снег.

3. К живой природе относятся:

- человек, животные, растения, грибы, микробы;
- Солнце, Земля, воздух, вода, человек и всё то, что сделано его руками;
- Солнце, небо, облака, Земля, камни, вода, дождь, снег.

4. Живые существа отличаются от предметов неживой природы тем, что:

- они дышат, питаются, растут, приносят потомство, умирают;
- они разговаривают, бегают и прыгают, смеются и плачут, растут, умирают;
- они передвигаются, растут, изменяют окружающую природу, умирают.

5. Животные – это:

- звери, насекомые, змеи, растения, грибы, микробы;
- птицы, звери, рыбы, ящерицы, черепахи, черви;
- птицы, звери, человек, насекомые, растения, грибы.

6. Из-за чего на Земле становится меньше лесов?

- из-за пожаров и стихийных бедствий;
- из-за изменения климата на Земле;
- из-за строительства городов, дорог, возделывания полей.

7. От чего загрязняется вода в реках и озёрах?

- от использования воды в быту;
- от использования воды в производстве;
- от слива сточных вод заводов и фабрик, нечистот с ферм.

8. Что люди делают для спасения живой природы?

- создают заповедники, ботанические сады;
- создают бульвары и скверы;
- создают фермы, пасеки и птицефермы.

9. Что такое заповедники?

- заповедники – это участки земли, где вся природа находится под строгой охраной;
- заповедники – это участки земли, где выращивают редкие растения со всего мира;
- заповедники – это участки земли, где обитает большое разнообразие зверей, птиц и насекомых.

10. Соедини линиями действия людей и соответствующие им результаты:

вырубка лесов ради древесины;

загрязнение воздуха;

истребление животных ради

загрязнение водоёмов;

Меха;

слив сточных вод;

исчезновение некоторых видов животных;

выбросы дыма от заводов и фабрик.

уменьшение количества лесов

11. Сведения о редких растениях и животных занесены:

- в Почётную книгу;
- в Красную книгу

4. Тест по теме «Наша безопасность»

Цель: проверить овладение предметными результатами

- соблюдать правила безопасного поведения пассажира железнодорожного, водного и авиатранспорта;
- соблюдать периодичность двигательной активности и профилактики заболеваний;

- соблюдать правила безопасного поведения во дворе жилого дома;
- соблюдать правила нравственного поведения на природе;

Спецификация

№ задания	1	2 - 6	7	8	9	10	11	12	13 - 16	17
Код проверяемого элемента	3.1		3.3		3.2		3.2	3.2		3.1

Тест

1. Соедини стрелочками номера телефонов и названия срочных служб.

- | | |
|----|-----------------|
| 01 | газовая служба |
| 03 | пожарная охрана |
| 04 | скорая помощь |

2. Что необходимо сделать, прежде всего, если в доме неожиданно начался пожар, который вы не можете потушить самостоятельно?

- Убежать;
- Закричать, позвать на помощь;
- Вызвать пожарных по телефону 01.

3. Если в подъезде дым, что нужно сделать?

- Выйти и посмотреть, где и что горит;
- Закрыть дверь и заткнуть щели мокрыми тряпками;
- Не обращать внимания – ведь горит не в твоей квартире.

4. В квартире прорвало трубу. Что нужно сделать, прежде всего?

- Оставить всё как есть до прихода родителей – это дело взрослых;
- Завернуть специальный вентиль и позвонить родителям;
- Выйти из квартиры.

5. Что нужно сразу сделать, если почувствуешь в квартире запах газа?

- Открыть окно;
- Сразу из квартиры позвонить в газовую службу по телефону 04;
- Зажечь спичку.

6. Переходя улицу, необходимо быть:

- Сильным, смелым, стройным;
- Собранным, внимательным, осторожным;
- Умным, красивым, радостным.

7. С какого возраста детям можно ездить на велосипеде по автомобильным дорогам?

- С 14 лет;
- С 10 лет;
- С 18 лет.

8. Как выглядят запрещающие знаки?

- Знак в виде красного треугольника;
- Знак в виде красного круга;
- Знак в виде синего круга.

9. Какое из утверждений верное?

- Все дорожные знаки важны – без них невозможно безопасное движение на дорогах;
- Самые важные знаки – знаки сервиса, ведь всегда необходимо знать, где находится автозаправочная станция или больница;
- Самые важные дорожные знаки – предупреждающие, так как они всегда предупредят водителя о любой опасности.

10. Чтобы уберечься от дыма, нужно:

- Дышать через мокрое полотенце;

- Спрятаться в шкаф;
 - Спрятаться под кровать.
11. Какие правила должен соблюдать пешеход?
- Ходить только по тротуарам, переходить дорогу в установленном месте;
 - Ходить по тротуарам и быстро перебежать дорогу;
 - Ждать транспорт на остановке близко от проезжей части.
12. Какие правила должен соблюдать пассажир?
- Садиться в автомобиль со стороны проезжей части;
 - Разговаривать с водителем только во время движения;
 - Не высовывать в окно руку и тем более голову.
13. Если застрял в лифте, нужно:
- Нажать кнопку «Вызов»;
 - Плакать и кричать;
 - Попытаться выбраться из кабины самостоятельно.
14. Небезопасно гулять в одиночку с наступлением темноты, потому что:
- Будет скучно;
 - Не будет видно дороги;
 - Может подстеречь преступник.
15. Чтобы уберечься от ударов молний, нельзя:
- Прятаться под высокие деревья, особенно отдельно стоящие;
 - Прятаться в зарослях кустарника;
 - Покидать открытое место.
16. Ядовитый гриб:
- Белена;
 - Бледная поганка;
 - Дурман.
17. Чтобы защитить себя от загрязнённого воздуха:
- Не стойте возле автомобиля с работающим двигателем;
 - Стойте возле людей, которые курят;
 - Ходите по главным улицам города с большим движением транспорта.

5. Промежуточная аттестация. Итоговая тестовая работа.

Цель: проверить овладение предметными результатами

- приводить примеры памятников природы, культурных объектов и достопримечательностей родного края; столицы России, городов РФ с богатой историей и культурой; российских центров декоративно-прикладного искусства; проявлять интерес и уважение к истории и культуре народов России;
- различать расходы и доходы семейного бюджета;
- распознавать изученные объекты природы по их описанию, рисункам и фотографиям, различать их в окружающем мире;
- проводить по предложенному плану или инструкции небольшие опыты с природными объектами с использованием простейшего лабораторного оборудования и измерительных приборов; соблюдать безопасность проведения опытов;
- сравнивать по заданному количеству признаков объекты живой и неживой природы;
- использовать различные источники информации о природе и обществе для поиска и извлечения информации, ответов на вопросы;
- использовать знания о взаимосвязях в природе, связи человека и природы для объяснения простейших явлений и процессов в природе, организме человека;
- фиксировать результаты наблюдений, опытной работы, в процессе коллективной деятельности обобщать полученные результаты и делать выводы;
- создавать по заданному плану собственные развёрнутые высказывания о природе,

человеке и обществе,

- соблюдать правила безопасного поведения пассажира железнодорожного, водного и авиатранспорта;
- соблюдать периодичность двигательной активности и профилактики заболеваний;
- соблюдать правила безопасного поведения во дворе жилого дома;
- соблюдать правила нравственного поведения на природе.

Спецификация

№ задания	1	2	3	4	5	6	7	8	9	10	11	12
Код проверяемого элемента	2.2 2.8	2.1 2.3 2.7	2.9	3.2	2.6 2.7		3.4	1.5	1.5	2.7 1.2	1.3	2.1 2.7 2.9

Тест

1. Этот опыт ученики поставили на уроке. Запиши цель опыта и вывод.

Цель опыта: _____

Вывод: _____

2. Надя и мама пришли в огород за капустой. На листе капусты они увидели слизня, а неподалёку на грядке – жабу. Впиши в схему названия этих организмов, чтобы получилась цепь питания.



3. Напиши любые 2 правила рационального питания.

1. _____

2. _____

4. Как сохранить хорошее зрение? Выбери правильные советы.

а) Читай, пиши, рисуй при хорошем освещении, но помни, что яркий свет не должен попадать в глаза.

б) Смотри телевизор и играй на компьютере в тёмной комнате.

в) Следи, чтобы при письме правой рукой свет падал слева, а при письме левой рукой – справа.

5. Кто должен соблюдать правила безопасности на улицах и дорогах?

а) пешеходы б) велосипедисты в) пассажиры г) все участники движения

6. Выбери правильно перечисленные группы дорожных знаков?

а) пешеходные, автомобильные, пассажирские

б) предупреждающие, запрещающие, предписывающие, знаки сервиса, особых предписаний

в) красные, синие, круглые, треугольные, квадратные

7. Серёжа, Надя и их подруга Света пришли в лес за ягодами и грибами. **Серёжа** стал собирать все грибы, которые видел, сказав, что дома мама разберётся, что съедобное, а что нет. **Надя** собирала только те грибы, которые ей казались съедобными. **Света** собирала только те грибы и ягоды, в съедобности которых была совершенно уверена. Кто поступил правильно? Напиши имена или имя

8. Подчеркни названия товаров одной чертой, а услуг – двумя.

Автомобиль, шапка, стрижка в парикмахерской, молоток, ремонт автомобиля, стирка в прачечной.

9. Что такое налоги?

а) Это установленные законом платежи, которые граждане и организации вносят в бюджет государства

б) Это расходы государства на образование, медицину, полицию

в) Это план доходов и расходов государства



10. Соедини линией начало и конец предложения, чтобы получился экологический прогноз.

Использование современных фильтров	обеспечит рабочими местами жителей города.
	увеличит доходы предприятия.
	снизит вредные выбросы завода в 5 раз

11. Узнай город по описанию. Напиши его название.

Этот необыкновенно красивый городок расположился на берегу реки Волги. Одна из его достопримечательностей – дом-музей замечательного русского художника Исаака Ильича Левитана.

12. Что могут рассказать о Норвегии эти фотографии? Напиши ответ.



4 класс

КОДИФИКАТОР
распределённых по классам проверяемых элементов содержания по учебному
предмету «Окружающий мир»
4 класс

Код раздела	Код проверяемого элемента (КПЭ)	Проверяемые элементы содержания
1	Человек и общество	
	1.1	Проявлять уважение к семейным ценностям и традициям, традициям своего народа и других народов, государственным символам России; соблюдать правила нравственного поведения в социуме
	1.2	Показывать на физической карте изученные крупные географические объекты России (горы, равнины, реки, озёра, моря, омывающие территорию России)
	1.3	Показывать на исторической карте места изученных исторических событий
	1.4	Находить место изученных событий на «ленте времени»
	1.5	Знать основные права и обязанности гражданина Российской Федерации
	1.6	Соотносить изученные исторические события и исторических деятелей с веками и периодами истории России
	1.7	Рассказывать о государственных праздниках России, наиболее важных событиях истории России, наиболее

		известных российских исторических деятелях разных периодов, достопримечательностях столицы России и родного края
	1.8	Описывать на основе предложенного плана изученные объекты, выделяя их существенные признаки, в том числе государственную символику России и своего региона
2	Человек и природа	
	2.1	Проводить по предложенному/самостоятельно составленному плану или выдвинутому предположению несложные наблюдения, опыты с объектами природы с использованием простейшего лабораторного оборудования и измерительных приборов, следуя правилам безопасного труда
	2.2	Распознавать изученные объекты и явления живой и неживой природы по их описанию, рисункам и фотографиям, различать их в окружающем мире
	2.3	Группировать изученные объекты живой и неживой природы, самостоятельно выбирая признак для группировки; проводить простейшие классификации
	2.4	Сравнивать объекты живой и неживой природы на основе их внешних признаков и известных характерных свойств
	2.5	Использовать знания о взаимосвязях в природе для объяснения простейших явлений и процессов в природе (в том числе смены дня и ночи, смены времён года, сезонных изменений в природе своей местности, причины смены природных зон)
	2.6	Называть наиболее значимые природные объекты Всемирного наследия в России и за рубежом (в пределах изученного)
	2.7	Называть экологические проблемы и определять пути их решения
	2.8	Создавать по заданному плану собственные развёрнутые высказывания о природе и обществе
	2.9	Использовать различные источники информации для поиска и извлечения информации, ответов на вопросы
3	Правила безопасной жизни	
	3.1	Соблюдать правила нравственного поведения на природе
	3.2	Осознавать возможные последствия вредных привычек для здоровья и жизни человека
	3.3	Соблюдать правила безопасного поведения при использовании объектов транспортной инфраструктуры населённого пункта, в театрах, кинотеатрах, торговых центрах, парках и зонах отдыха, учреждениях культуры (музеях, библиотеках и т.д.)
	3.4	Соблюдать правила безопасного поведения при езде на велосипеде, самокате
	3.5	Осуществлять безопасный поиск образовательных

1. Тест по теме «РАСТЕНИЕВОДСТВО В НАШЕМ КРАЕ»**Цель: проверить овладение предметными результатами**

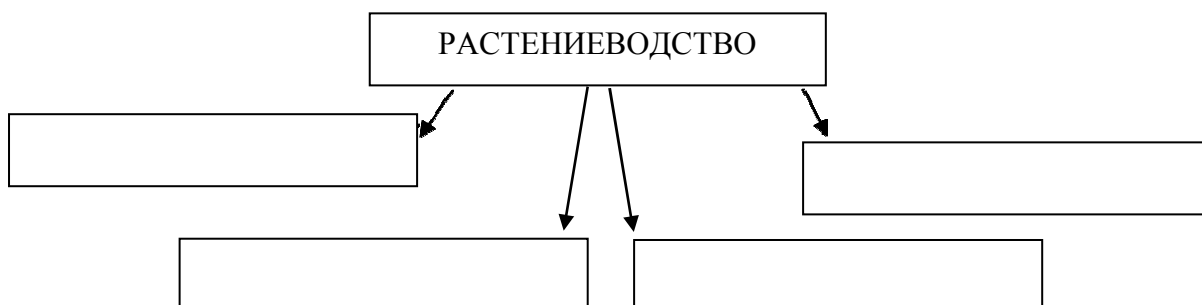
- распознавать изученные объекты и явления живой и неживой природы по их описанию, рисункам и фотографиям, различать их в окружающем мире;
- группировать изученные объекты живой и неживой природы, самостоятельно выбирая признак для группировки; проводить простейшие классификации;
- использовать знания о взаимосвязях в природе для объяснения простейших явлений и процессов в природе (в том числе смены дня и ночи, смены времён года, сезонных изменений в природе своей местности, причины смены природных зон).

Спецификация

№ задания	1	2	3	4	5	6
Код проверяемого элемента	1.8, 2.2, 2.3	2.2	2.2, 2.3, 2.4	2.3, 2.4	2.3	2.5

Тест

1. На какие отрасли делится растениеводство? Заполни схему.



2. Допиши предложения.

Выращивание полевых культур – это _____.

Выращивание цветочных культур – это _____.

3. Установи соответствие.

ОВОЩНЫЕ КУЛЬТУРЫ

крыжовник

капуста

ПЛОДОВЫЕ КУЛЬТУРЫ

малина

груша

томаты

4. Подчеркни лишнее слово в каждой строке.

а) овёс, кукуруза, подсолнечник, лук;

б) огурец, кабачок, чеснок, вишня;

в) груша, абрикос, гречиха, смородина;

г) капуста, лилия, ирис, флоксы.

5. Как называют людей, занятых в полеводстве? Обведи нужную букву.

- а) огородник;
 - б) полеводы;
 - в) животноводы;
 - г) садоводы.
6. Почему хлеб – всем голова? Обведи нужную букву.
- а) хлеб бывает круглым, похожим на голову;
 - б) хлеб – главный продукт питания человека;
 - в) зёрна – главная часть хлебных растений.

2. Тест по теме: «ВЕЛИКАЯ ВОЙНА И ВЕЛИКАЯ ПОБЕДА»

Цель: проверить овладение предметными результатами

- показывать на исторической карте места изученных исторических событий;
- находить место изученных событий на «ленте времени»;
- соотносить изученные исторические события и исторических деятелей с веками и периодами истории России.

Спецификация

№ задания	1	2	3	4	5	6
Код проверяемого элемента	1.1	1.1	1.1 1.6	1.1 1.6 1.7	1.1 1.6 1.7	1.1 1.6

Тест

1. Когда началась Великая Отечественная война? Обведи нужную букву.
 - А) 22 июня 1941 г.;
 - б) 9 мая 1945 г.;
 - в) в 1939 г.
2. Кто напал на нашу страну? Обведи нужную букву.
 - А) немецкие фашисты;
 - б) испанские завоеватели;
 - в) арабские наёмники.
3. Какой город выдержал 900 – дневную блокаду фашистов, но не сдался врагу? Обведи нужную букву.
 - А) Москва;
 - б) Ленинград;
 - в) Тула.
4. Какие города получили высокое звание «Город – герой»? Продолжи перечень.
Москва, _____
_____.
5. Какая битва стала началом освобождения нашей страны от фашистов? Обведи нужную букву.
 - А) Ростовская;
 - б) Курская;
 - в) Сталинградская.
6. Когда территория Советского Союза была полностью освобождена от захватчиков? Обведи нужную букву.
 - А) осенью 1943 г.;
 - б) осенью 1944 г.;
 - в) осенью 1945 г.

3. Тест по теме «СЛАВНЫЕ СИМВОЛЫ РОССИИ»

Цель: проверить овладение предметными результатами

- знать основные права и обязанности гражданина Российской Федерации;
- соотносить изученные исторические события и исторических деятелей с веками и периодами истории России;
- описывать на основе предложенного плана изученные объекты, выделяя их существенные признаки, в том числе государственную символику России и своего региона.

Спецификация

№ задания	1	2	3	4	5	6	7	8	9
Код проверяемого элемента	1.1	1.1	1.1	1.1	1.1 1.5	1.5	1.5	1.5	1.5

Тест

1. Что в ряду лишнее? Вычеркни. Допиши предложение.

Герб, флаг, Президент, гимн – это _____

2. Установи соответствие.

Торжественное музыкальное произведение, принятое как символ государственного единства.	ГЕРБ
Прикреплённое к древку или шнуру полотнище определённого цвета или нескольких цветов.	ФЛАГ
Отличительный знак, который может принадлежать человеку, городу, государству.	ГИМН

3. В каком порядке расположены (сверху вниз) цветные полосы на флаге России? Обведи нужную букву.

- а) синяя, белая, красная;
- б) красная, синяя, белая;
- в) белая, синяя, красная.

4. Что изображено на Государственном гербе России? Обведи нужную букву.

- а) орёл;
- б) двуглавый лев;
- в) двуглавый орёл.

5. Что делают при исполнении Государственного гимна? Обведи буквы правильных ответов.

- а) военные отдают честь;
- б) все встают;
- в) размахивают флагом;
- г) мужчины снимают головные уборы.

6. Что значит быть гражданином? Обведи буквы правильных ответов.

- а) иметь обязанности;
- б) исполнять законы;
- в) соблюдать правила дорожного движения;
- г) иметь права.

7. С какого возраста мы имеем право участвовать в управлении делами государства? Обведи нужную букву.

- а) с 18 лет;
- б) с 14 лет;

в) с 20 лет.

8. Кто является главой нашего государства? Обведи нужную букву.

а) король;

б) царь;

в) президент.

9. Какой государственный орган одобряет или отклоняет законы, принятые государственной думой?

а) Совет Федерации;

б) Президент;

в) Совет граждан

4. Промежуточная аттестация. Итоговая тестовая работа.

Цель: проверить овладение предметными результатами

— описывать на основе предложенного плана изученные объекты, выделяя их существенные признаки, в том числе государственную символику России и своего региона;

— проводить по предложенному/самостоятельно составленному плану или выдвинутому предположению несложные наблюдения, опыты с объектами природы с использованием простейшего лабораторного оборудования и измерительных приборов, следуя правилам безопасного труда;

— распознавать изученные объекты и явления живой и неживой природы по их описанию, рисункам и фотографиям, различать их в окружающем мире;

— группировать изученные объекты живой и неживой природы, самостоятельно выбирая признак для группировки; проводить простейшие классификации;

— сравнивать объекты живой и неживой природы на основе их внешних признаков и известных характерных свойств;

— использовать знания о взаимосвязях в природе для объяснения простейших явлений и процессов в природе (в том числе смены дня и ночи, смены времён года, сезонных изменений в природе своей местности, причины смены природных зон);

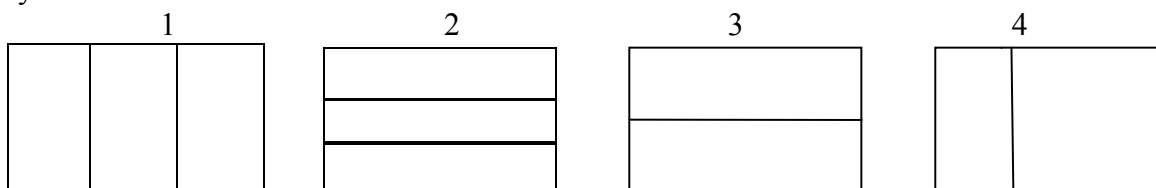
— осознавать возможные последствия вредных привычек для здоровья и жизни человека.

Спецификация

№ задания	1	2	3	4	5	6, 7, 9, 10	8	11	12	13	14	15	16
Код проверяемого элемента	1.1 1.8	1.1 1.8	2.5 3.3	3.2	2.2 2.5	2.2	2.4	2.2 2.4	2.2 2.3 2.4	2.5 3.2	1.6	2.2 2.3	2.8 3.1

Тест

A1. Укажи вид флага России. Подпиши цвета частей, из которых он состоит или раскрась рисунок.



A2. Запиши названия:

1. государства, в котором мы живём _____

2. столицы нашего государства _____

3. символы государства _____

A3. Выбери вариант ответа, почему осенью и весной опасно выходить на лёд водоёмов.

- В это время дети учатся, поэтому им некогда ходить по льду.
- На водоёмы не пускает служба спасения.
- Не разрешают учителя и родители.

– Весной и осенью лёд на водоёмах непрочный, легко ломается.

A4. Какая деятельность человека укрепляет и развивает мышцы?

- Употребление в пищу большого количества фруктов и овощей.
- Просмотр телепередач, чтение книг.
- Физкультура, спорт, физический труд.
- Принятие специальных лекарств.

A5. Какая природная зона описана в тексте?

Лето теплое, но зима суровая, преобладают хвойные растения, т. к. они менее требовательны к теплу. Животный мир разнообразен.

1. тундра; 2. тайга; 3. пустыня; 4. арктическая пустыня.

A6. Что служит органом обоняния?

1. язык; 2. Кожа; 3. глаза; 4. нос

A7. По названным признакам определи группу растений.

Эти растения обычно невысокие. Растут повсеместно в теплое время года. Имеют один или несколько не одревесневших стеблей.

1. деревья 2. кустарники 3. травянистые растения 4. хвойные растения

A8. Чем лиственные растения отличаются от хвойных.

- Лиственные растения ниже хвойных.
- Лиственные растения имеют листья, а хвойных – иголки.
- Лиственные деревья очищают воздух, а хвойные – нет.
- Под хвойными деревьями ничего не растёт, а под лиственными всегда есть подлесок.

A9. Из какого полезного ископаемого получают металлы?

1. из гранита; 2. из угля; 3. из руды 4. из нефти.

A10. Определи животное лесной зоны.

1. бурый медведь 2. леминг 3. белый медведь. 4. Джейран

A11. Подбери к названию природной зоны её характерные признаки, соедини стрелками.

1. Арктика	А. смешанный, широколиственный, хвойный
2. Тундра	Б. безжизненная снежная пустыня
3. Лес	В. Карликовая ива, берёза
4. Степь	Г. Зона напоминает огромный пляж
5. Пустыня	Д. цепь питания: ковыль – суслик - орёл

Часть 2 – Часть 3 Выполняется на отдельном бланке

B1. Зачеркни лишнее слово. Распредели оставшиеся слова в 2 столбика и дай им названия: Стакан, заяц, снежинка, ромашка, сосулька, бабочка, камень.

B2. Мышцы при выполнении физических нагрузок утомляются. Определите, что надо делать, чтобы не допустить утомления.

1. отказаться от любого физического труда;
2. чередовать труд и отдых или разные виды труда;
3. не ходить на уроки физкультуры, не заниматься спортом;
4. принимать специальные лекарства.

B3. Этот русский князь считается одним из величайших полководцев всех времён и народов. Свою первую победу в битве на реке Неве он одержал, когда ему едва исполнилось 19 лет. А стратегия боя на реке Чудь может служить образцом военной

тактики. А ещё ему принадлежат знаменитые слова: « Кто с мечом к нам придёт,
тот от меча и погибнет».

Напиши, кто

это _____

Часть 3

C1 Выпиши названия планет: Солнце, Земля, Венера, Меркурий, Марс

Допиши несколько планет _____ C2. P
